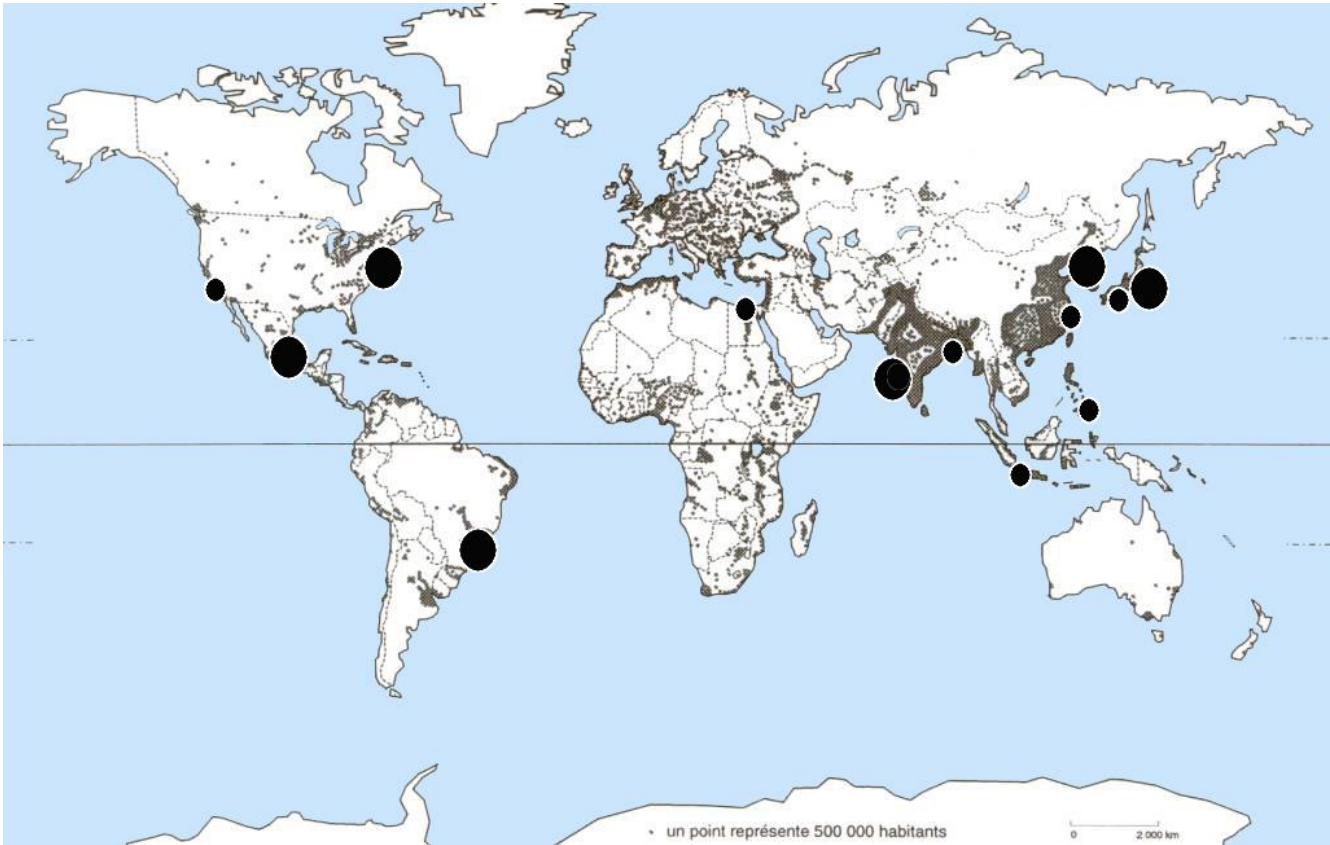


Métropoles mondiales et aires urbaines françaises.

SAVOIR LOCALISER : connaître les métropoles mondiales et les foyers de population



1. Entoure au crayon de couleur rouge les trois principaux foyers de population.
2. Situe au crayon de couleur bleu les métropoles que tu connais.

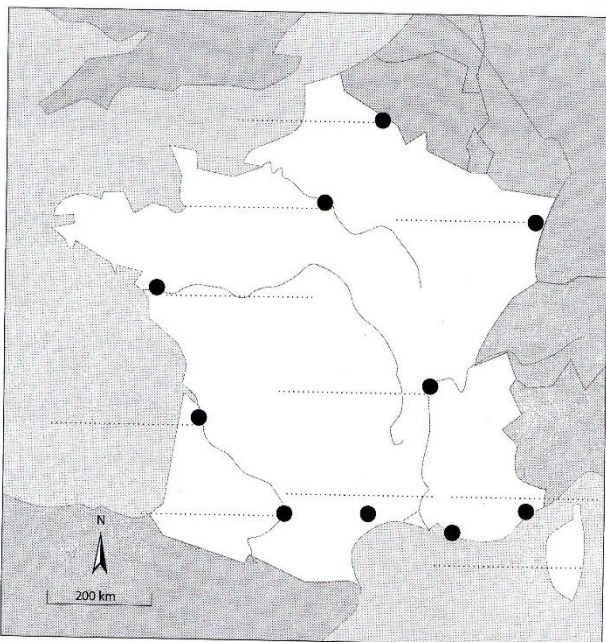
S'il t'en manque, aide toi du doc 9 page 245

<i>Nombre de repères situés</i>	<i>métropole</i>
<i>Sans aide du manuel</i>	
<i>Avec aide du manuel</i>	

Définitions

Foyer de population :

Métropole :



SAVOIR LOCALISER : connaître les aires urbaines françaises

1. Situe au crayon de couleur rouge les aires urbaines que tu connais.

S'il t'en manque, aide toi du doc 5 page 242

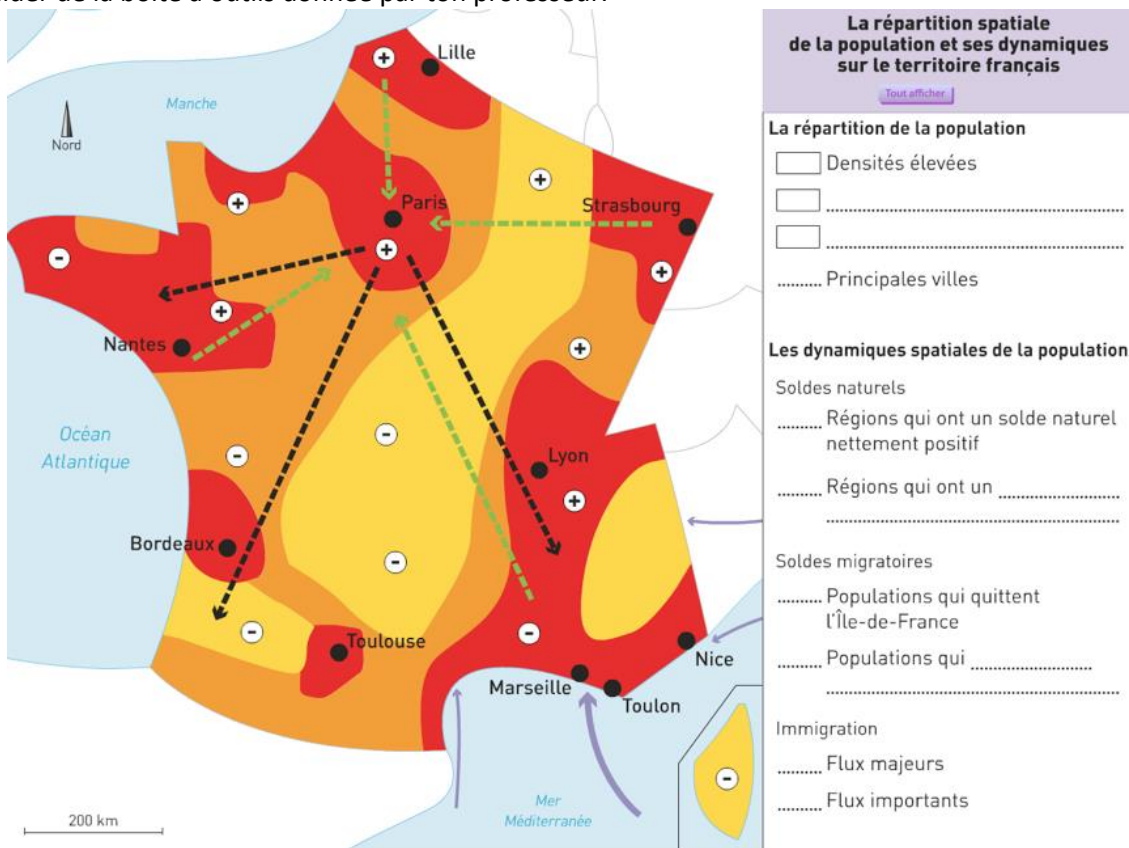
<i>Nombre de repères situés</i>	<i>Aires urbaines</i>
<i>Sans aide du manuel</i>	
<i>Avec aide du manuel</i>	

SAVOIR SITUER et EXPLIQUER : la répartition spatiale de la population et ses dynamiques sur le territoire français

Observe le document 5 page 242 et complète la légende de cette carte

Attention tu vas devoir réfléchir au choix des couleurs, des figurés...

Tu peux t'aider de la boîte à outils donnée par ton professeur.



SAVOIR SITUER et EXPLIQUER : la répartition spatiale de la population et ses dynamiques sur le territoire français

Observe le document 5 page 242 et complète la légende de cette carte

Attention tu vas devoir réfléchir au choix des couleurs, des figurés...

Tu peux t'aider de la boîte à outils donnée par ton professeur.

