

# CONSIGNES DE TRAVAIL

Classe de 3<sup>ème</sup> 2  
Séance du 6 mars

1. Écrire dans votre cahier le titre du III suivant :

## III. Des intégrations diverses à l'échelle nationale


2. En format paysage, dans votre cahier, recopiez le fond de carte mentale (page n°2)

3. Complétez cette carte mentale avec les documents joints pour **Lundi 9 mars**.

-Chaque rectangle de la carte se complète avec l'ensemble des documents présents sur une page

-Les titres écrits en **rouge**, **violet** ou **vert** et les numéros (1, 2 ou 3) vous indiquent quelle page utiliser pour compléter les différentes parties de la carte.

exemple :



**Paris, une métropole dominante bien intégrée à la mondialisation**

Cette partie se complète avec cette diapositive →

**Consigne :** Trouver dans ces documents, 2 arguments+ exemples qui prouvent que « Paris et sa région sont un pôle dominant bien intégré à la mondialisation », puis les écrire dans le rectangle correspondant sur votre carte mentale

**Paris une métropole dominante 1. Concernant l'industrie**

Document 1 : Carte des espaces industriels français



Document 2 : Carte des pôles de compétitivité de la région parisienne



Paris concentre 4 pôles d'compétitivité mondiaux sur les 14 répartis sur le territoire.

Document 3 : Paris-Saclay est un pôle scientifique et technologique (**cluster**) sur une zone couvrant 27 communes. Sa construction, lancée en 2006, doit durer 20 ans pour permettre de regrouper entre 20 et 25 % de la recherche scientifique française. Il réunit des organismes de recherches, grandes écoles, universités, entreprises privées pour créer un pôle d'excellence comparable à celui de la **Silicon Valley**. On y trouve : le CNRS, l'École polytechnique, CentraleSupélec, Renault, Danone, AgroParis Tech, HEC...

LEXIQUE :

**Pôle de compétitivité** : territoire qui regroupe des entreprises, des universités et des centres de recherche dans un même secteur d'activités (ex : aéronautique à Toulouse).

**Cluster** : groupe d'entreprises d'un même secteur d'activités installées sur un même lieu et mettant en commun leurs moyens pour être plus compétitives

1-Concernant l'industrie :

- 
- 

2-Concernant l'agriculture :

- 
- 
- 

3- Concernant les autres domaines :

- 
- 
- 
- 

+Concentration de zones de commandements politiques (ministères-institutions de la République)

**Paris, une métropole dominante bien intégrée à la mondialisation**

**Comment les territoires français et les secteurs de production sont-ils intégrés à la mondialisation?**

1-Concernant l'industrie :

- 
- 

**Le U périphérique de croissance, une région attractive et bien intégrée à la mondialisation**

**Les marges : diagonale du vide et grande ruralité enclavée**

3- Concernant les autres domaines :

- 
- 
- 

2-Concernant l'agriculture :

- 
- 
- 

3- Concernant les autres domaines :

- 
- 
- 
- 

1-Concernant l'industrie :

- 
- 
- 

2-Concernant l'agriculture :

- 
- 
- 

**Conseil : ne fermez pas vos rectangles vous risquez de manquer de place !**

**Consigne :** Trouver dans ces documents, 2 arguments+ exemples qui prouvent que « Paris et sa région sont un pôle dominant bien intégré à la mondialisation », puis les écrire dans le rectangle correspondant sur votre carte mentale

## Paris une métropole dominante 1. Concernant l'industrie

Document 1 : Carte des espaces industriels français



**Titre :** Les espaces industriels français

**Légende :**

-  Cœur industriel profitant du dynamisme du bassin parisien
-  Régions industrielles les + dynamiques du croissant périphérique
-  Anciennes régions industrielles en crise

Document 2 : Carte des pôles de compétitivité de la région parisienne



Paris concentre 4 pôles de compétitivité mondiaux sur les 14 répartis sur le territoire.



**Document 3 :** Paris-Saclay est un pôle scientifique et technologique (*cluster*) sur une zone couvrant 27 communes. Sa construction, lancée en 2006, doit durer 20 ans pour permettre de regrouper entre 20 et 25 % de la recherche scientifique française. Il réunit des organismes de recherches, grandes écoles, universités, entreprises privées pour créer un pôle d'excellence comparable à celui de la Silicon Valley. On y trouve : le CNRS, l'École polytechnique, CentraleSupélec, Renault, Danone, AgroParis Tech, HEC...

### **LEXIQUE :**

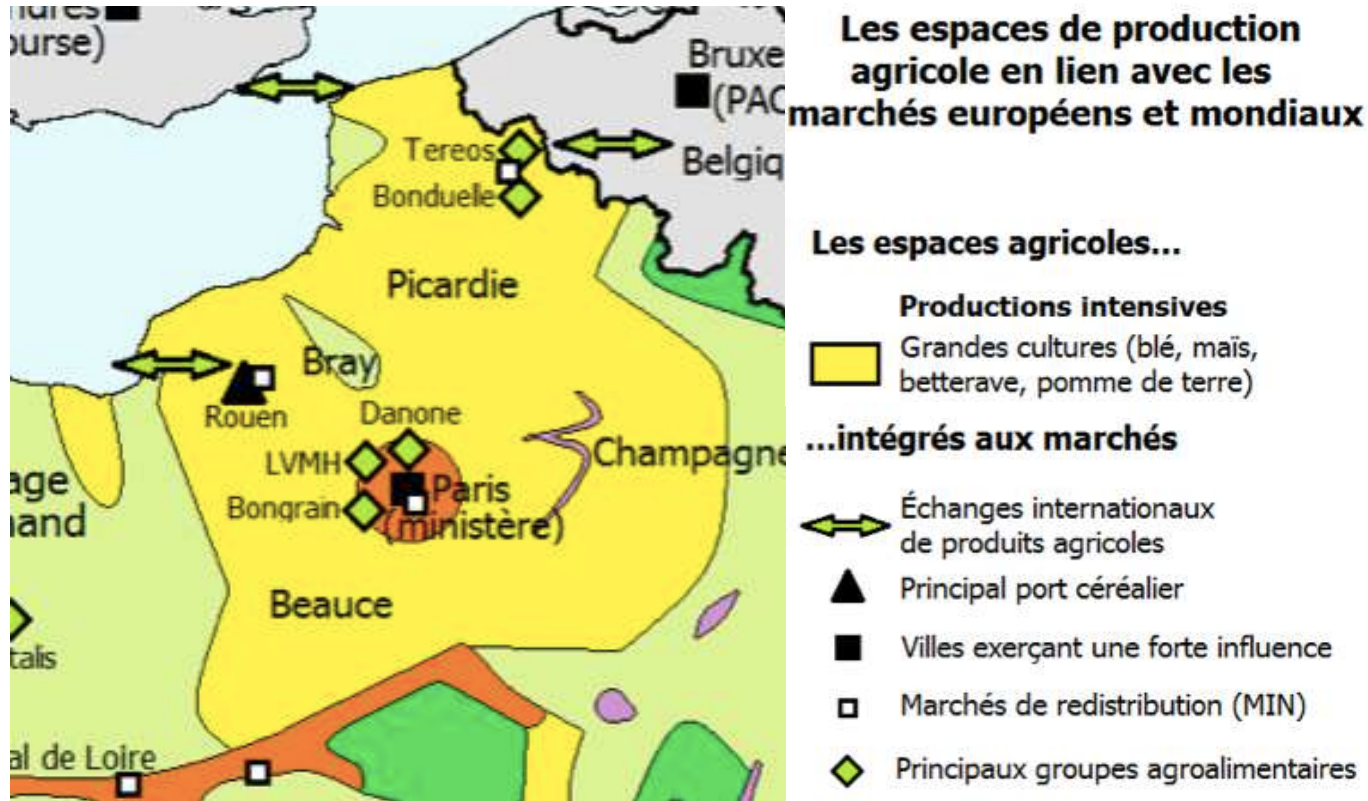
**Pôle de compétitivité :** territoire qui regroupe des entreprises, des universités et des centres de recherche dans un même secteur d'activités (ex : aéronautique à Toulouse).

**Cluster :** groupe d'entreprises d'un même secteur d'activités installées sur un même lieu et mettant en commun leurs moyens pour être plus compétitives

**Consigne : Trouver dans ce document, 2 arguments + exemples qui prouvent que « Paris et sa région sont un pôle dominant bien intégré à la mondialisation », puis les écrire dans le rectangle correspondant sur votre carte**

## Paris une métropole dominante 2. Concernant l'agriculture

Document 4 : Carte des espaces agricoles du Nord et de la région parisienne



### LEXIQUE :

**Productions intensives ou agriculture intensive :** Type d'agriculture qui cherche à produire de hautes quantités grâce à la mécanisation de la production, aux engrais chimiques et aux hautes technologies

**Groupes agro-alimentaires ou industrie agro-alimentaire :** industrie qui transforme la production agricole en produits alimentaires (exemple : blé → pâtes)

**Consigne : Trouver dans ces documents, 4 arguments + exemples qui prouvent que « Paris et sa région sont un pôle dominant bien intégré à la mondialisation » puis les écrire dans le rectangle correspondant sur votre carte**

**Paris une métropole dominante 3. Concernant les autres domaines**

**Document 5 : Quartier des affaires de la Défense**



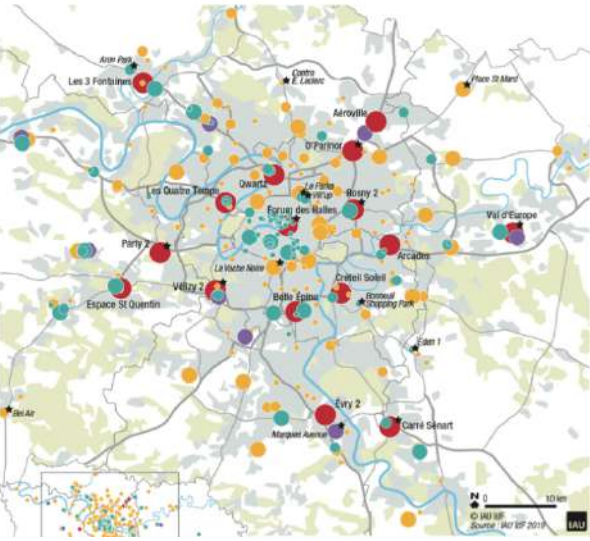
**Les chiffres clés de la Défense :**  
 -Le 1<sup>er</sup> quartier d'affaires européen  
 -3600 entreprises, 15 des 50 premières entreprises mondiales.  
 -1500 sièges sociaux  
 -180 000 salariés  
 -1er HUB d'échanges de transports en commun avec 500 000 passagers par jour



**Document 6 :  
 Projet du Grand Paris qui doit renforcer le hub parisien déjà classé 1<sup>er</sup> hub de France**

**LEXIQUE :**  
**Hub :** ensemble de réseaux de transports organisés en nœuds qui permettent de desservir une zone et de la relier à différentes échelles régionales, nationales et internationales.

**Document 7 : Une concentration exceptionnelle des centres commerciaux en île de France, 2019**  
 Source : CCI de paris, 2019



**Document 8 : Les emplois touristiques par région L'île de France représente 30% des emplois du tourisme en France**



Source : Insee Première (Juin 2015), chiffres 2011 \* En France métropolitaine

**Doc 9 : Classement des 10 sites les plus visités en France**

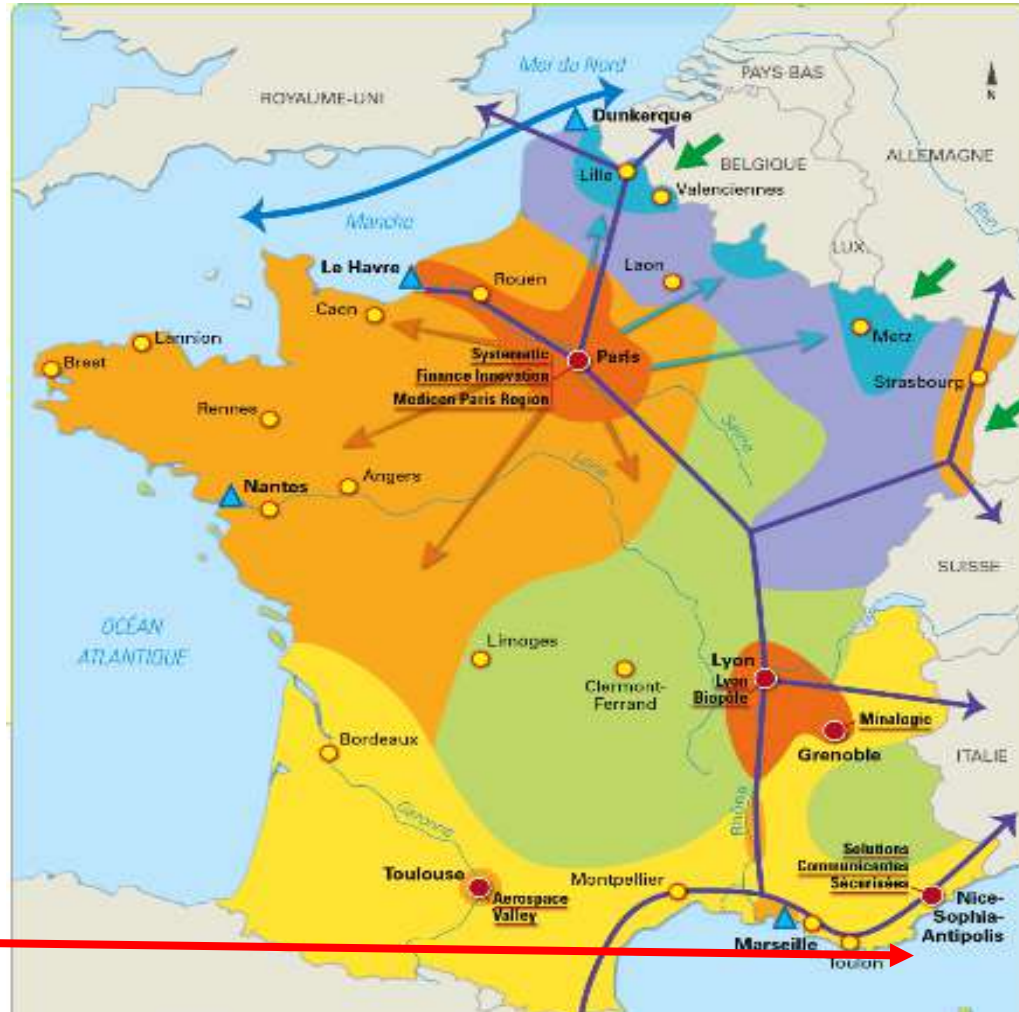
- 1 : Disneyland Paris (Marne-La-Vallée) – 15 millions
- 2 : Le Louvre (Paris) – 10 millions
- 3 : Château de Versailles (Versailles) – 8 millions
- 4 : La Tour Eiffel (Paris) : 7 millions
- 5 : Centre Pompidou (Paris) : 4 millions
- 6 : Musée d'Orsay (Paris) / 7 : Mont Saint Michel (Le-Mont-Saint-Michel) / 8 : Cité des Sciences et de l'Industrie (Paris) / 9 : Puy du Fou (Les Epesses) / 0 : Futuroscope (Poitiers)

**Consigne : Trouver dans ces documents, 2 arguments + exemples qui prouvent que le « U de croissance périphérique » est une région attractive et bien intégrée à la mondialisation, puis les écrire dans le rectangle correspondant sur votre carte mentale**

**U de croissance périphérique 1. Concernant l'industrie**

**Document 1 : Sophia Antipolis 1<sup>er</sup> technopôle de France**

1<sup>er</sup> Technopôle de France et d'Europe, ce pôle de compétitivité mondiale regroupe 2500 entreprises, 38000 emplois de 64 nationalités en recherche scientifique de pointe dans les domaines des technologies de l'information et la communication, du multimédia, des sciences de la vie de l'énergie, de la gestion de l'eau des risques et du développement durable. Il regroupe également 5500 étudiants et 4500 chercheurs.



**1. Facteurs de localisation**

**Axes et pôles**

- ↔ Axes terrestres majeurs
- ↔ Axe maritime majeur
- Pôle de compétitivité mondiale
- Autres pôles de compétitivité
- ▲ Ports et ZIP

**Politiques industrielles**

- Déconcentration
- Reconversion
- Investissements étrangers

**2. Les espaces industriels**

- Régions dominantes
- Régions de déconcentration
- Sud attractif
- Régions en crise
- Régions en reconversion
- Régions en recherche d'attractivité

**Document 2 : Carte des espaces industriels français**

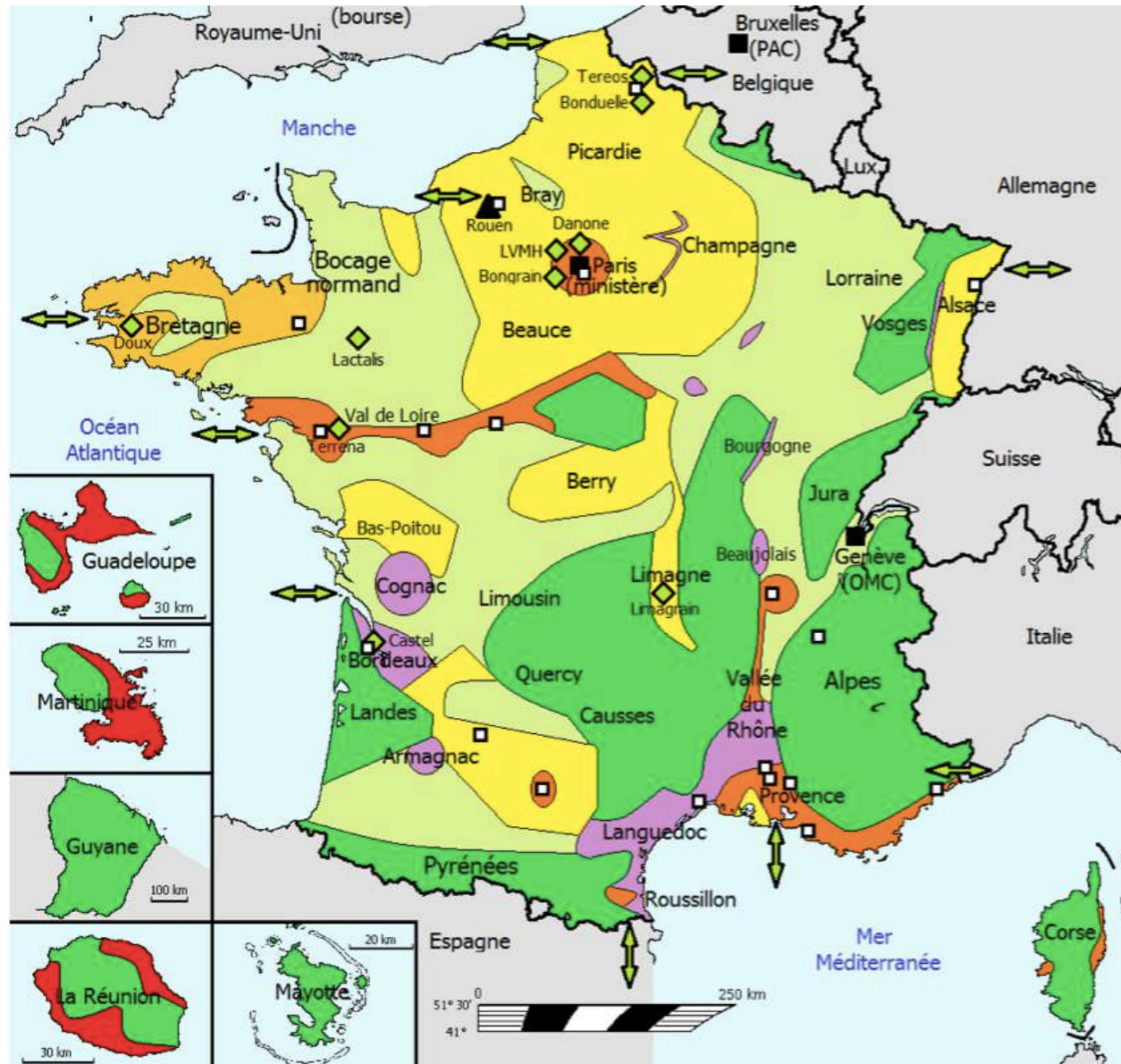
**LEXIQUE :**

**Pôle de compétitivité (rappel diapo2):** territoire qui regroupe des entreprises, des universités et des centres de recherche dans un même secteur d'activités (ex : aéronautique à Toulouse).

**Technopôle :** une métropole qui concentre de nombreuses activités de haute technologie.

**Consigne :** Trouver dans ce document, 2 arguments + exemples qui prouvent que le « U de croissance périphérique » est une région attractive et bien intégrée à la mondialisation, puis les écrire dans le rectangle correspondant sur votre carte mentale

## U de croissance périphérique 2. Concernant l'agriculture



**Document 3 :** Carte des espaces de production agricole en lien avec les marchés européens et mondiaux

### Les espaces agricoles...

#### Productions intensives

- Grandes cultures (blé, maïs, betterave, pomme de terre)
- Principaux vignobles
- Agriculture périurbaine, vergers et maraîchage
- Élevage hors-sol (aviaire et porcin)
- Cultures tropicales (canne à sucre, banane)

#### Productions extensives

- Polyculture et élevage
- Sylviculture dominante et un peu d'élevage extensif

### ...intégrés aux marchés

- Échanges internationaux de produits agricoles
- Principal port céréalier
- Villes exerçant une forte influence
- Marchés de redistribution (MIN)
- Principaux groupes agroalimentaires

### LEXIQUE :

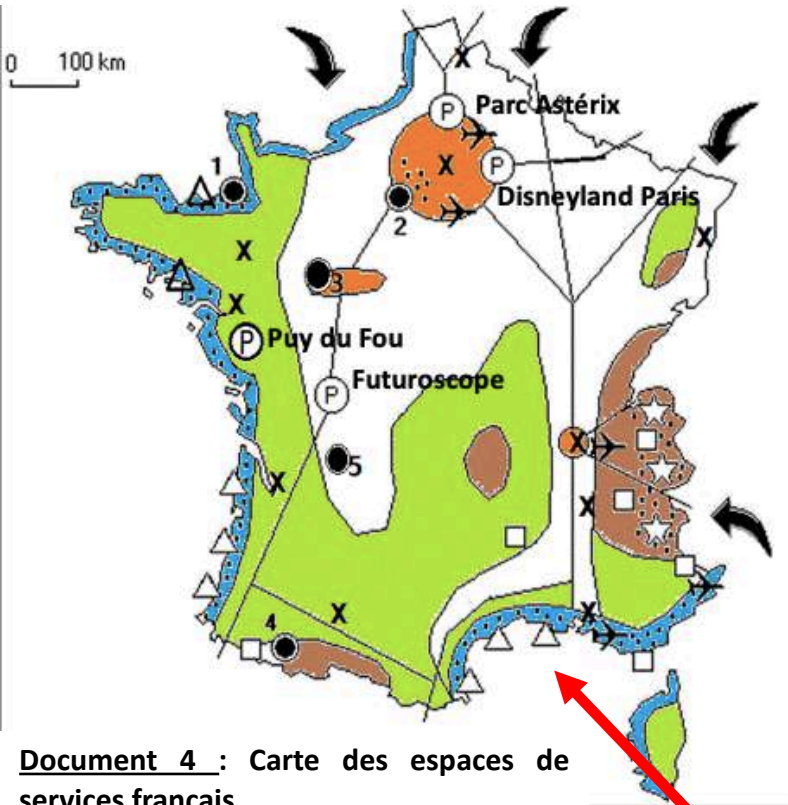
**Maraîchage :** cultures de légume

**Polyculture :** plusieurs cultures sur un même domaine

**Sylviculture :** mise en valeur des forêts

**Consigne :** Trouver dans ces documents, 2 arguments + exemples qui prouvent que le « U de croissance périphérique » est une région attractive et bien intégrée à la mondialisation, puis les écrire dans le rectangle correspondant sur votre carte mentale

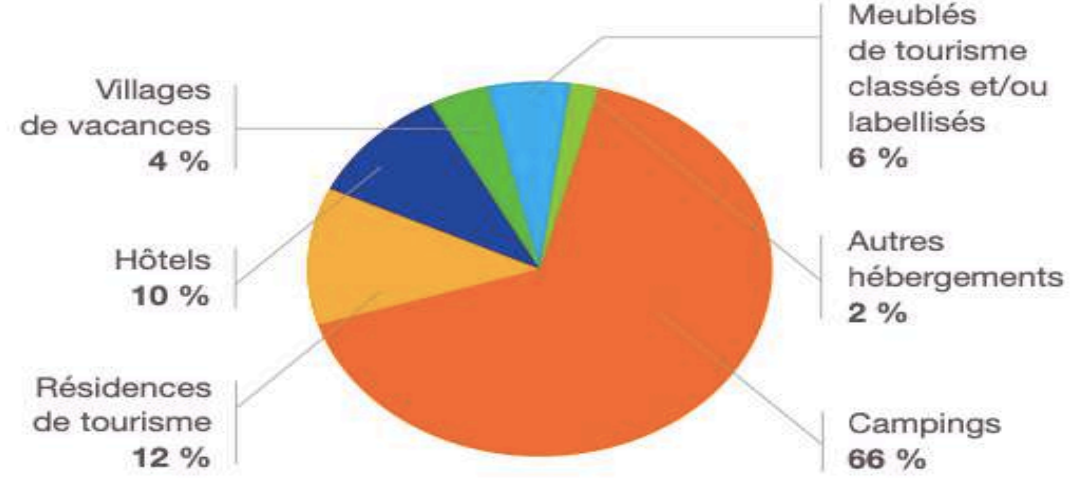
### U de croissance périphérique 3. Concernant les autres domaines



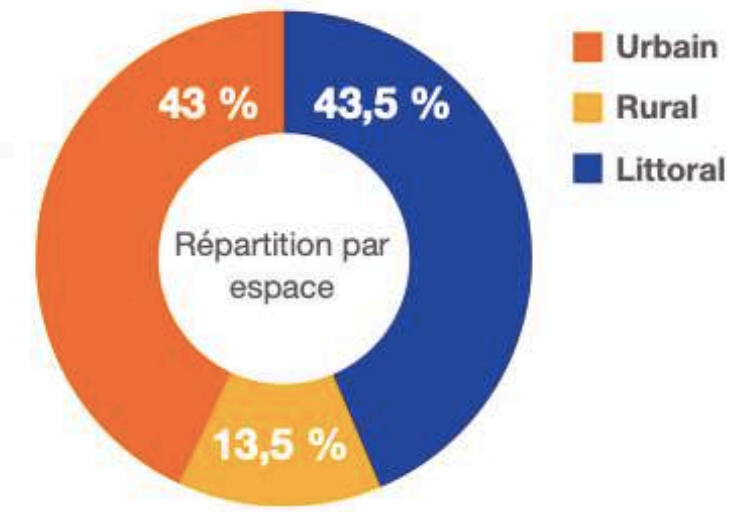
**Titre :** Les espaces de services français

- Légende :**
- 1. La concentration des services**
    - X Quartiers d'affaire des métropoles
  - 2. Les différentes espaces touristiques**
    - Tourisme culturel
    - Tourisme balnéaire
    - Tourisme de montagne
    - Tourisme vert
  - 3. Les aménagements pour le tourisme**
    - (P) Parcs d'attraction
    - Aéroports internationaux
    - Stations balnéaires
    - Stations de sports d'hiver (étude de cas)
    - Parcs naturels nationaux
    - Quelques lieux touristiques majeurs (voir numeros)
  - 4. Les impacts du tourisme**
    - Flux de touristes
    - Paysages profondément marqués par le tourisme

**Document 6 :** Le tourisme dans l'Hérault : type d'hébergement et lieu de séjour



**Document 5 :** Cap d'Agde, station balnéaire intégrée de l'Hérault



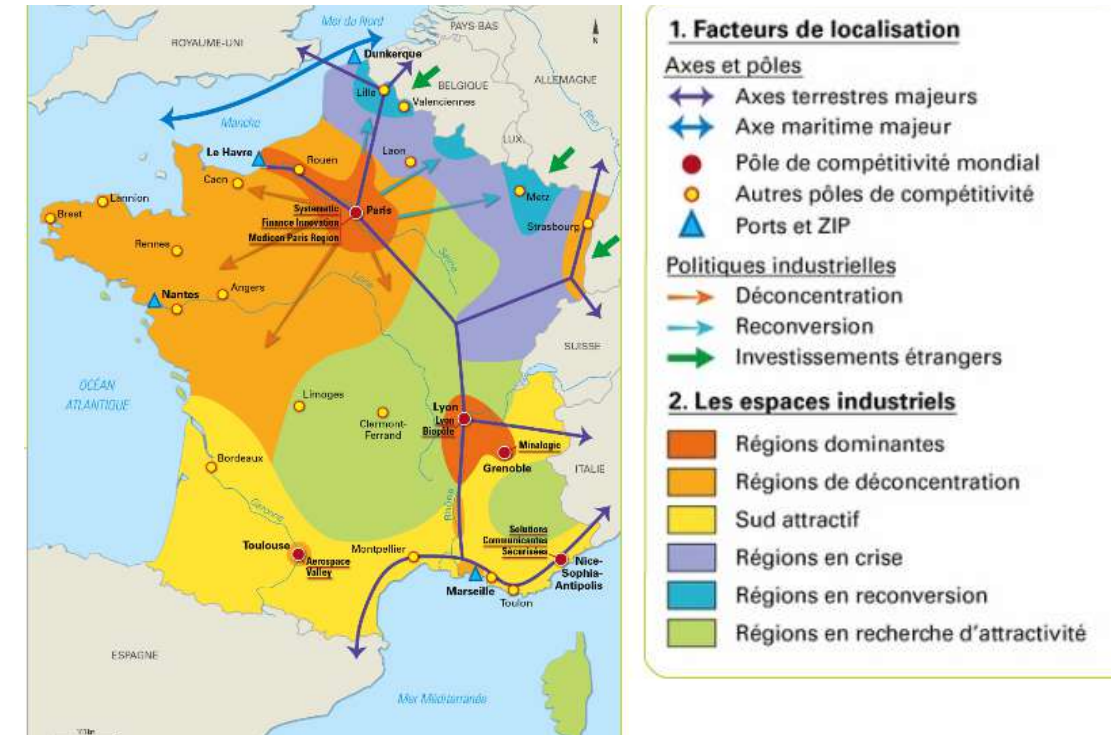
**LEXIQUE :**  
**Station balnéaire :** lieu de séjour situé en bord de mer aménagé pour l'accueil des touristes.



**Consigne : Trouver dans ces documents, 3 arguments + exemples qui prouvent que l'« Les marges : diagonale du vide et grande ruralité enclavée » sont en marge de la mondialisation, puis les écrire dans le rectangle correspondant sur votre carte mentale**

**Les marges : diagonale du vide et grande ruralité enclavée – 1. Concernant l'industrie**

**Document 1 : Carte des espaces industriels français**




**Document 2: Reconversion de friches industrielles**



A Nœux-Les-Mines, proche de Béthune, les anciens terrils (collines artificielles construites par l'accumulation de résidu minier lors de l'exploitation du charbon dans ces régions aux siècles précédents) ont été transformés en lieux de loisirs, notamment en pistes de ski artificielles. Transformer des friches polluées en espaces naturels, c'est le défi mené dans plusieurs anciens sites industriels du Nord.

**Document 3 : Carte des PIB régionaux en 2015**



Carte par anamorphose (en vert) : la superficie de la région ne correspond pas à la réalité géographique, mais elle est proportionnelle à la création de richesse de la région. Une région est donc surreprésentée par rapport à d'autres. Pour mémoire, voici ci-dessous la carte des régions administratives avec les vraies superficies.

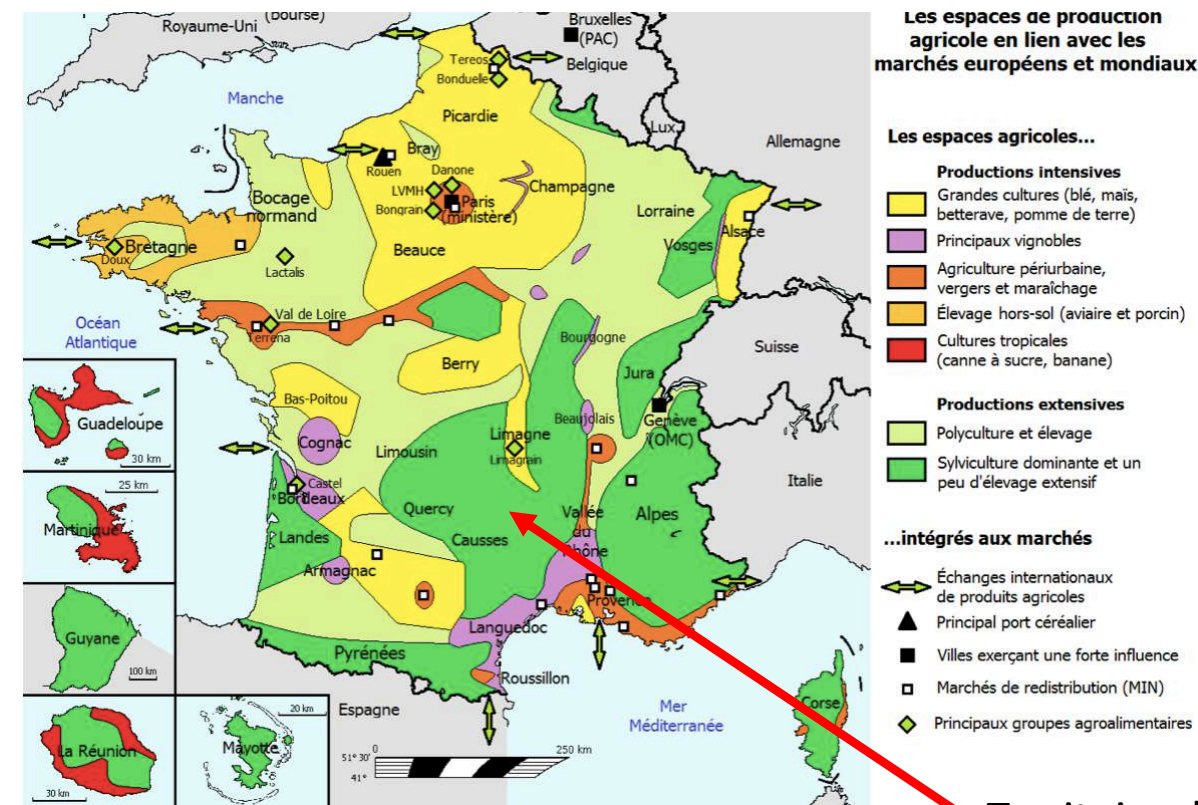


**LEXIQUE :**  
**Reconversion :** Changement d'activité  
**PIB : Produit Intérieur Brut :** ensemble des richesses créées dans un pays

**Consigne :** Trouver dans ces documents, 3 arguments + exemples qui prouvent que « Les marges : diagonale du vide et grande ruralité enclavée » sont en marge de la mondialisation, puis les écrire dans le rectangle correspondant sur votre carte mentale

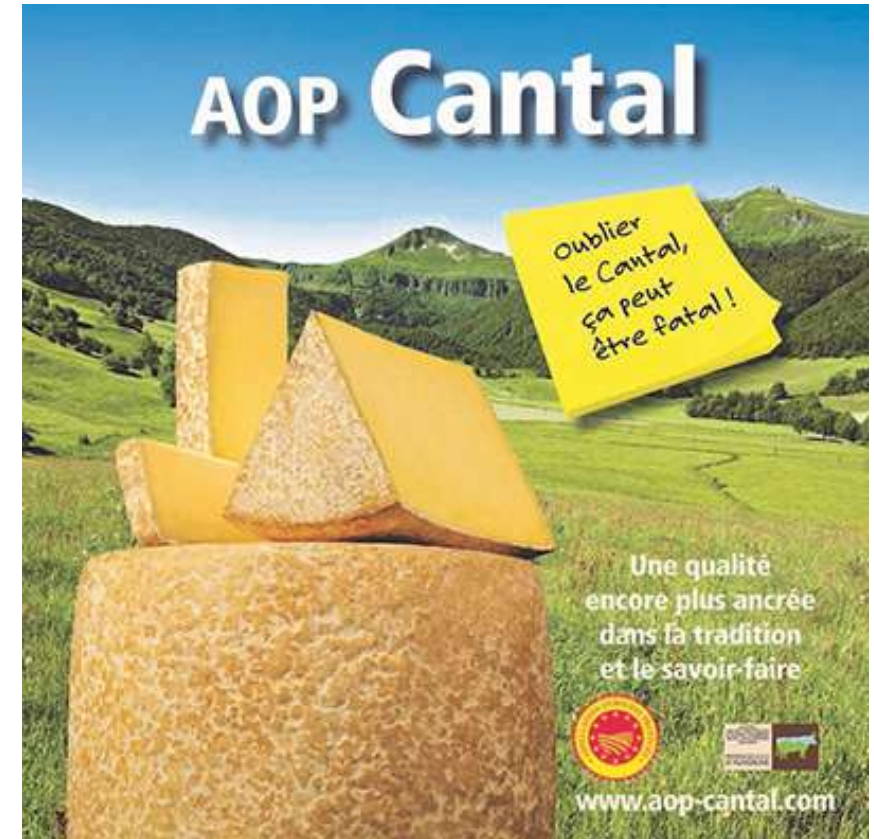
## Les marges : diagonale du vide et grande ruralité enclavée – 2. Concernant l'agriculture

**Document 4 :** Carte des espaces agricoles français



Territoire de l' AOP  
Cantal

**Document 5 :** Campagne de publicité financée par le département du Cantal pour l'AOP : Appellation d'origine protégée de son fromage



### **LEXIQUE :**

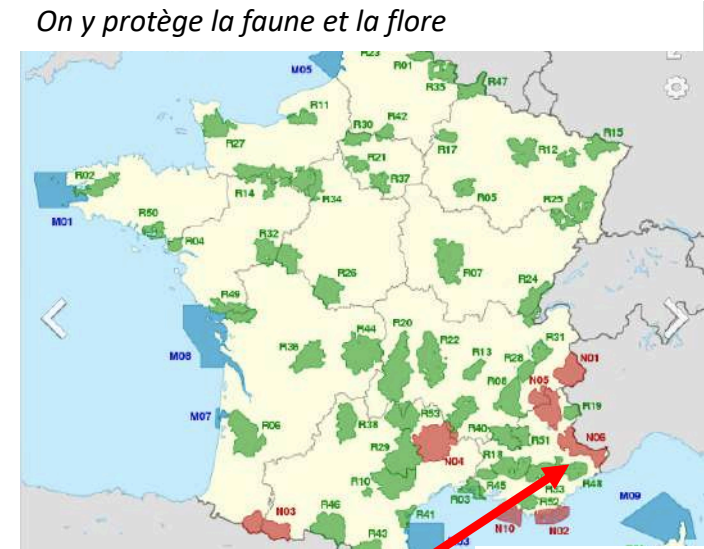
**AOP : Appellation d'origine protégée :** label européen qui garantit le nom d'un produit et son savoir-faire. C'est un gage de qualité pour les consommateurs.

**Marketing territorial :** ensemble des publicités pour communiquer sur les activités d'un territoire afin de dynamiser son économie.

**Consigne : Trouver dans ces documents, 3 arguments + exemples qui prouvent que l'« Les marges : diagonale du vide et grande ruralité enclavée » sont en marge de la mondialisation, puis les écrire dans le rectangle correspondant sur votre carte mentale**

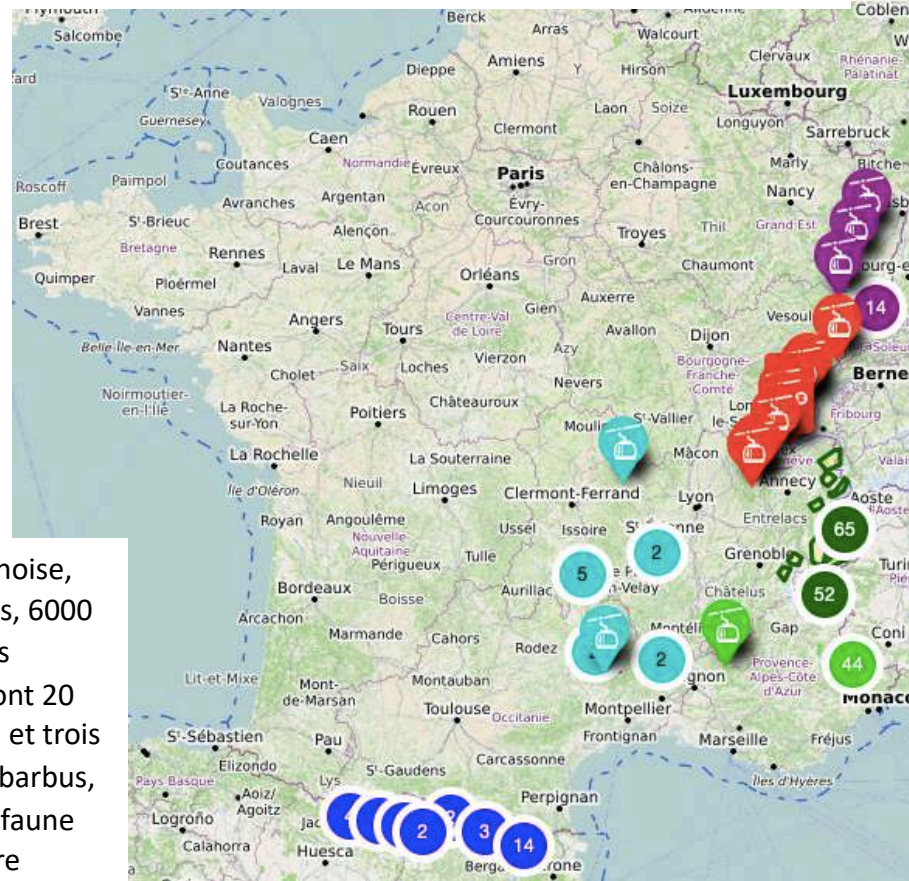
**Les marges : diagonale du vide et grande ruralité enclavée – 3. Concernant les autres domaines**

**Document 6: Parcs naturels régionaux et nationaux de France**  
*On y protège la faune et la flore*




Dans le parc de la Vanoise, avec 2600 bouquetins, 6000 chamois, 125 espèces d'oiseaux nicheurs dont 20 couples d'aigles royal et trois couples de gypaètes barbus, le parc présente une faune remarquable qui attire 720 000 visiteurs par an.

**Document 7: Les stations de ski en France, valorisation des massifs montagneux**



**Document 8: Dessin de presse dénonçant la désertification dans les espaces de faible densité**



**LEXIQUE (Rappel G2):**  
**PNN** : Parc Naturel National  
**PNR** : Parc Naturel régional  
**Désertification** : problème de disparition progressive de services publics, commerces et entreprises dans les zones de faibles densités.