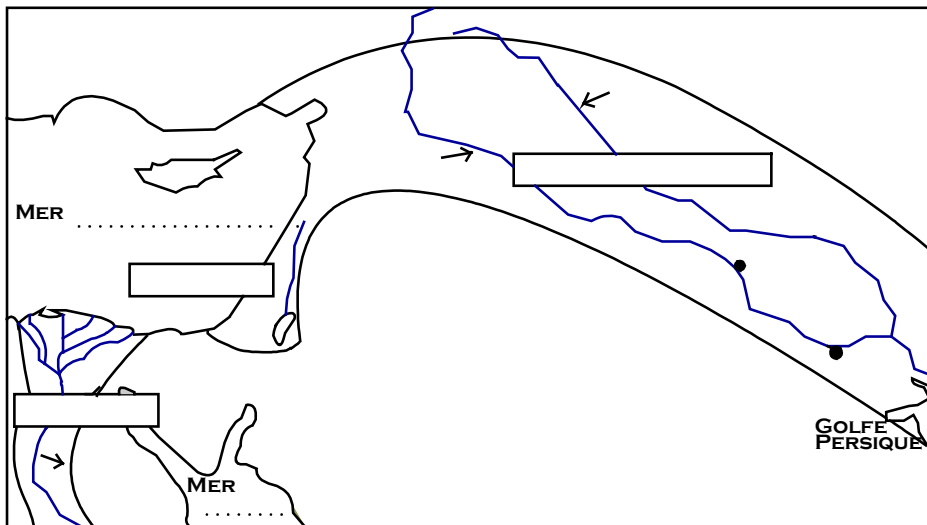


Fiche sur l'ORIENT ANCIEN :

LOCALISATION

- 1- allez sur le site : http://www.wontu.fr/ORIENT_ANCIEN_amiens.html
- 2- expliquez ce qu'est le CROISSANT FERTILE
-
- 3- que s'est-il passé vers 8000 avant Jésus-Christ ? ...
- 4- citez les 2 fleuves qui coulent en MESOPOTAMIE :
- 5- complétez cette carte : + légende et carte à colorier (cf manuel p 13 / à terminer pour le ...)



Consignes: (recopiez sans faire de fautes !)
 1- Ecrivez en bleu à côté des flèches le nom des 3 fleuves (1 majuscule / le reste en minuscule)
 2- Ecrivez en bleu le nom des 2 mers sur les pointillés (1 majuscule / le reste en minuscule)
 3- Ecrivez en rouge et en lettres majuscules le nom des 3 régions dans les rectangles

Légende :


bleu	mers ou golfe
jaune	désert
vert	Croissant Fertile

SYNTHESE

- 6- pourquoi le Croissant Fertile n'est-il pas un désert ? ...
- 7- rédigez votre synthèse avec ces 7 termes : Mésopotamie / IIIe millénaire av. J.-C. / fleuves / désert / agriculteurs / premières cités / Croissant Fertile


- 8- écrivez en rouge sur la carte ci-dessus le nom de la cité où a été découvert l'étendard (à côté de •).
 Quelle est sa date de réalisation : ...
- 9- que représente le côté GUERRE : une armée sumérienne ou un banquet (: repas) ?
- 10- que représente le côté PAIX : une armée sumérienne ou un banquet (: repas) ?
- 11- observez bien les 2 côtés de l'étendard pour vous permettre de répondre aux questions 12 et 13
- 12- quand vous êtes à « SCHEMATISATION », complétez ces schémas : (couleurs au choix)

a. ETENDARD côté GUERRE :



Légende :

b. ETENDARD côté PAIX :



Légende :

ETUDE DE CAS N°1

13- répondez à ces questions : ETENDARD côté GUERRE :

a- Décrivez les différents éléments utilisés pour la guerre	
b- Comment sont représentés les ennemis ?	
c- Comment sont représentés les soldats de l'armée victorieuse ?	
d- Comment reconnaît-on le roi ?	
e- Quelles sont ses fonctions ?	

14- répondez à ces questions : ETENDARD côté PAIX :

f- Pourquoi est-ce important d'avoir représenté des sacs de grains ?	
g- Quels animaux sont représentés ? pourquoi ?	
h- A quels éléments voit-on qu'il s'agit d'une fête ?	
i- Décrivez les invités	
j- Comment reconnaît-on le roi ?	

15- notez dans ce tableau les différents éléments que vous avez observés de chaque côté de l'étendard de la cité de UR au crayon ce tableau

Société	Economie	Pouvoir	Religion
-	-	-	-
-	-	-	-
-	-	-	-
-	-	-	-
=	=	=	=

Ne pas remplir

16- lisez ce texte et répondez aux questions :

<p>Ur-Nammu, le grand guerrier, roi d'Ur, de Sumer et d'Akkad par toute la puissance du dieu-lune Nanna, seigneur de la ville, par la volonté du dieu-soleil Utu, a établi l'égalité des droits sur ses terres. Il repousse les malédictions, la violence et les guerres.</p> <p>Il a fixé les offrandes du temple à 5000 kilos d'orge, 30 moutons et 23 kilos de beurre par mois. Il a déterminé les unités de poids et la valeur de l'argent.</p> <p>D'après le Code des lois du roi Ur-Nammu, IIIème millénaire avant JC</p>	<p>1- quels sont les pouvoirs du roi d'Ur ?...</p> <p>2- qui fait les lois à Ur ?...</p> <p>3- qui protège la population d'Ur ?...</p> <p>4- quelles offrandes (cadeaux) sont faites au temple ?...</p> <p>5- combien de dieux sont cités ici ? ...</p> <p>6- est-ce du polythéisme ou du monothéisme ?...</p>
---	--

ETUDE DE TEXTE

17- rédigez au crayon une synthèse sur la société de la cité de UR en vous aidant des études de cas et de vos réponses précédentes :

Au IIIe millénaire avant notre ère, la société de UR, cité de MESOPOTAMIE, ...

NAISSANCE DES 1^{ERS} ETATS

18- complétez ce tableau en indiquant sur le plan les différents numéros par des couleurs selon leur fonction :

Titre :		Légende :			
ETUDE DE CAS N°2		Fonction politique rouge	Fonction militaire Noir	Fonction religieuse vert	Fonction économique bleu
		=	=	=	=

Ne pas remplir

19- complétez au crayon ce tableau à l'aide votre manuel (éd : Hatier)

NAISSANCE DE L'ECRIURE	docs	Formes d'écriture	Date et lieu	Support et/ou matériel	Rôle de l'écriture
	1 p 24				
	3 p 24				+ 2 p 29
	4 p 25			+ 2 p 19	+ 2 p 19

+ vidéos

20- les hommes ont cherché un moyen de conserver leurs actes et ont alors inventé l'écriture :
Retrouvez les éléments qui les ont poussés à cette invention en complétant ce tableau au crayon :

Au niveau économique	Au niveau religieux	Au niveau politique	Au niveau culturel

21- complétez cette frise et entourez sur ce planisphère la zone du Croissant fertile

8000 av JC	7000 av JC	6000 av JC	5000 av JC	4000 av JC	3500	3000 av JC	2000 av JC	1000 av JC	naissance de Jésus Christ
apparition de ...				naissance de ...		naissance des ... ex : ...		naissance de Jésus Christ	
Vert La PREHISTOIRE					bleu L'HISTOIRE				

Compléments :

pour les autres civilisations du CROISSANT FERTILE :

Ex : l'EGYPTE : cf dossier du manuel p 16 à 19

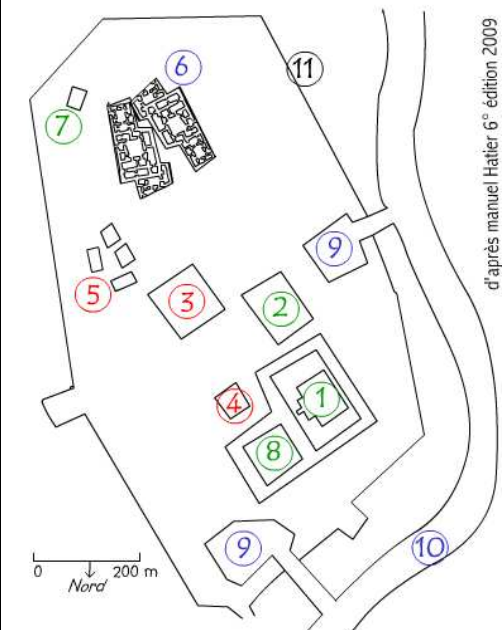
+ site : <http://www.wontu.fr/EGYPTE.html> (pour jouer avec l'Egypte, les dieux égyptiens, découvrir une momie, ...)

SYNTHESE de l'étendard : quelles sont les 1ères sociétés ?

proposition de CORRECTION :

Société	Economie	Pouvoir	Religion
Guerriers Artisans (armes) Artistes Esclaves	Poissons Céréales Elevage	Roi / sceptre	offrande
= société hiérarchisée	= économie fondée sur le commerce + importance de l'eau (: irrigation)	= pouvoir donné par les dieux	= les prêtres s'occupent des dieux

NAISSANCE des 1^{ers} ETATS

Titre :	Légende :			
	Fonction politique rouge	Fonction militaire noir	Fonction religieuse vert	Fonction économique bleu
 <p style="writing-mode: vertical-rl; transform: rotate(180deg); font-size: small;">d'après manuel Hatier 6^e édition 2009</p>	3 : palais du roi 4 : trésor des rois 5 : tombes royales	11 : remparts	1 : Ziggourat 2 : résidence de la grande prêtresse de Nanna 7 : temple du dieu Enki 8 : temple du dieu Nanna	6 : habitations 9 : ports 10 : ancien cours de l'Euphrate
	= le roi a tous les pouvoirs (donné par les dieux) , il possède les terres, fait les lois, décide des impôts ...	= protection de la cité par une armée dirigée par le roi cité : ville + champs + importance de l'eau dans une zone désertique	= plusieurs dieux : polythéisme. Ils reçoivent des offrandes. Chaque cité est protégée par un dieu principal pour lequel on dresse un temple appelé ziggourat.	= importance du commerce hiérarchie sociale

NAISSANCE de l'ECRITURE : pour se souvenir des actes
+ matériel : tablette en calcaire, en argile, papyrus ...+ calame

Au niveau économique	Au niveau religieux	Au niveau politique	Au niveau culturel
Pour compter les animaux, les sacs de grains Faire des comptes, des inventaires Conclure des contrats Pour les impôts = commerce	Raconter des croyances Ecrire des prières	Ecrire des lois et rendre la justice Donner des ordres Garder une trace, faire connaître l'histoire d'un évènement, le pouvoir du roi (: affirmation du pouvoir royal)	Raconter des légendes Communiquer (ex : lettres)

+ video écriture :
<http://www.youtube.com/watch?v=mADrWB6F5CU&feature=related>
<http://www.youtube.com/watch?v=Iq8-69pBH1Y&feature=related>
<http://horslesmurs.ning.com/video/la-naissance-de-lecriture-a>
<http://www.penn.museum/cgi/cuneiform.cgi> : écrire son nom

vmoreau@ac-amiens.fr

A Cuneiform "Alphabet"			
A	▶	N	↗↘
B	◀▶	O	▶
C	▶▶	P	▶▶
D	◀▶	Q	↔
E	↘	R	◀▶
F	↘	S	▶
G	▶	T	▶
H	▶▶	U	◀▶
I	▶▶	V	◀▶
J	▶	W	▶▶
K	▶	X	◀▶
L	▶▶	Y	◀▶
M	▶	Z	▶

source : wikipedia