

## Thème 3 Géo : Villes et développement durable : EDC et mise en perspective

Intro : Plus d'un homme sur deux vit aujourd'hui en ville et on estime que cette proportion va encore fortement augmenter dans les années à venir. Mais alors que la ville constitue le cadre de vie de la majorité de l'humanité, on y constate des dysfonctionnements aussi bien économiques, sociaux et environnementaux. Dans cette optique, de plus en plus d'acteurs tentent de promouvoir et de mettre en œuvre un développement urbain plus durable.

**PB** : *À quels enjeux sont aujourd'hui confrontées les grandes villes du monde ? Quelles solutions sont mises en œuvre pour des villes plus durables ?*

### Londres et Lagos: deux villes face aux enjeux urbains du monde d'aujourd'hui

► *Localisation et contextualisation (nombre d'habitants, superficie, niveau de richesse et de développement, ville du Nord ou ville du Sud ?) : repères p168 et p176 + carte p15*

Londres :

Lagos :

#### I) Les enjeux liés à la croissance urbaine (cours manuel p 192)

► À Londres :

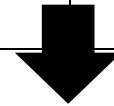
1) Caractériser la croissance urbaine londonienne à l'aide des documents 2 et 4 p168-169. La croissance de Londres est-elle linéaire ? Justifiez votre réponse avec les mêmes documents.

► À Lagos :

1) Caractériser la croissance urbaine à Lagos à l'aide du document 2 p176. La croissance de la ville vous semble-t-elle ancienne ? Justifiez votre réponse.

2) Quelles conséquences cette croissance urbaine engendre-t-elle à la lecture du document 1 p168 ? Justifiez vos réponses en vous appuyant sur ce document et le document 4 p169.

2) Quelles conséquences cette croissance urbaine engendre-t-elle à la lecture du document 1 p176 ? Justifiez vos réponses en vous appuyant sur ce document et les documents 3 et 4 p177.



**↘ On compare et on met en perspective :**

3) Comparez vos réponses et justifiez l'affirmation suivante : « La croissance urbaine des aires métropolitaines de Londres et Lagos présente des ressemblances et des différences ».

4) Montrez que Londres et Lagos sont révélatrices de la transition urbaine en cours à l'échelle mondiale mais aussi des différences qui existent entre pays du Nord et pays du Sud en matière de croissance urbaine (cartes p188-189 et cours du manuel).

5) Relevez dans le manuel d'autres exemples de villes marquées par **un fort étalement urbain (déf p176), une importante ségrégation socio-spatiale (déf p176) et souvent un zonage (déf p192) très prononcé**. Précisez pour chacune d'entre elle l'Etat auquel elle appartient et s'il s'agit d'une ville du Nord ou d'une ville du Sud.

## II) Mobilités et transports : des enjeux urbains majeurs (cours manuel p194)

À Londres :

6) Quel type de mobilités domine à Londres ? Justifiez votre réponse. Quels transports permettent d'y répondre ? (documents 6, 10 et 11)

7) Quelles sont les nuisances liées aux mobilités urbaines (documents 7 à 9) ?

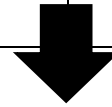
À Lagos :

6) Relevez les éléments qui montrent que la mobilité à Lagos est particulièrement difficile à Lagos (document 4 p177).

Quel autre problème souligne le document 3 p177 ?

8) Quelles sont les solutions mises en place pour diminuer ces nuisances (documents 6 à 10 p170-171 ; p164-165 et p202) ? Y a-t-il des limites ?

8) Quelles dire des solutions mises en place pour satisfaire les mobilités croissantes (doc 5 p178) ?



**↘ On compare et on met en perspective :**

9) Rédigez un paragraphe faisant le point sur les mobilités urbaines et la gestion des transports à Londres et à Lagos. Vous veillerez à bien y souligner les points communs et les différences.

10) Replacez Londres et Lagos dans le contexte mondial en vous aidant de la carte p 190 : les problèmes de mobilités rencontrés dans ces villes sont-ils exceptionnels ?

11) Relevez dans le chapitre d'autres exemples de villes proposant des solutions nouvelles en matière de transport urbain ; justifiez vos réponses.

### III) Aménager durablement les villes : quel avenir ? (cours manuel p198)

**Le point sur la notion de ville durable** : notion p 198 définie lors de la conférence d'Aalborg (Danemark) en 1994. La ville durable poursuit 3 objectifs : elle respecte l'environnement, elle impulse un développement économique, elle cherche à améliorer la qualité de vie des citoyens.

À Londres : documents p 172-173

12) Voici des exemples actions réalisées en faveur d'une gestion urbaine durable : *écoquartiers ; ville nouvelle « verte » ; réhabilitation de quartiers en difficultés ou délaissés ; programme Retrofit d'économie d'énergie ; reconversion du village olympique de Stratford en habitat collectif, dont la moitié en logement social ; Thames Gateway (docs 12 et 13) ; nouveau quartier des affaires à Canary Wharf.*

→ Classez-les en fonction des piliers du développement durable en complétant le tableau suivant :

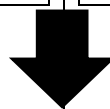
Pilier économique	Pilier social	Pilier environnemental

À Lagos : documents p178-179 et 2 p203

12) Voici des actions réalisées en faveur d'une gestion urbaine durable : *écostation ; politique d'amélioration de l'habitat urbain (destruction de bidonvilles ; logements sociaux) ; nouveau quartier d'activité ; projet Eko Atlantic (doc 9).*

→ Classez-les en fonction des piliers du développement durable en complétant le tableau suivant :

Pilier économique	Pilier social	Pilier environnemental



**↘ On compare et on met en perspective :**

13) Londres et Lagos vous semblent-elles comparables pour ce qui relève de la gestion urbaine durable ? Justifiez votre réponse.

13) Lisez le paragraphe B p198 : Est-ce valable pour Londres ? Justifiez votre réponse.

13) Lisez le paragraphe C p 198 : est-ce valable pour Lagos? Justifiez votre réponse.

14) À la lecture de la carte p 191, Londres et Lagos sont-elles représentatives de la situation mondiale ?

Conclusion :

■ **Production graphique** : A l'aide des pages 174-175 (pour Londres) et 180-181 (pour Lagos) et plus précisément des schémas intermédiaires, complétez les croquis de synthèse fournis ainsi que leurs légendes. Vous veillerez à rendre ces croquis conformes aux attentes méthodologiques.

■ **Fiches** : synthétisez les pages 192, 194 et 198 du manuel (format fiche avec plan apparent).